


Найти значение выражения, выбирая удобный порядок вычислений:


а) $(237 + 118) - 37$



7

2

б) $729 - (513 + 129)$



Решите уравнения:


а) $x + 124 = 212$

б) $a - 458 = 345$



8


2



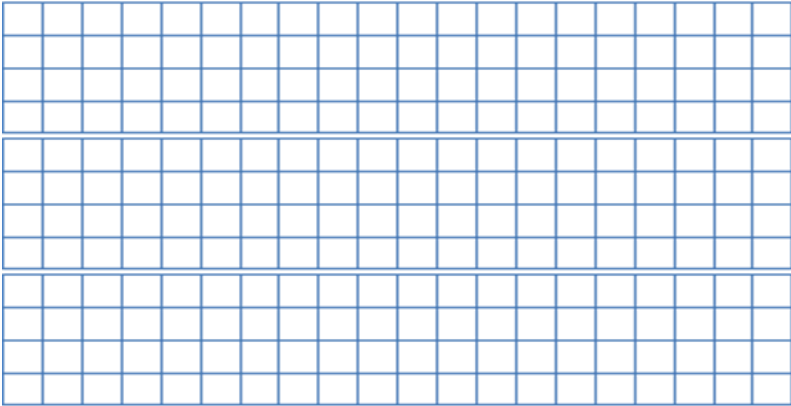


Три бригады ремонтировали дорогу. Первая бригада отремонтировала 23 км, вторая – на 7 км меньше, чем первая. Вместе первая и вторая бригады отремонтировали на 12 км больше, чем третья. Сколько километров дороги отремонтировали три бригады вместе?

9

2



10	<p><i>Сумма шести последовательных чисел равна 1275. Найдите эти числа</i></p> 	3
11	<p><i>Найдите сумму: $1 + 2 + 3 + \dots + 1999$.</i></p> 	3
12	<p><i>Сумма двух чисел равна 495. Одно из чисел оканчивается нулем. Если этот нуль зачеркнуть, то получится второе число. Найдите эти числа.</i></p> 	4

