

5-е гимназические классы  
ГБОУ Школа №109  
2024/2025 учебный год

# Структура обучения учащихся в старшей школе (5-11 классы)

- ✓ 5-е гимназические классы с углубленным изучением ряда учебных предметов;
- ✓ 6, 7, 8, 9 классы – введение системы стратификации по математике, русскому языку, иностранному языку (основному) в соответствии с уровнем знаний и темпом обучения;
- ✓ 7 класс – проект «Математическая вертикаль» (10 уроков математики, участие в проекте «Математическая вертикаль»);
- ✓ 8-е классы – предпрофильная подготовка к поступлению в 9-е лицейские классы: медиакласс, инженерный, медицинский, предпринимательский;
- ✓ 9-11 классы – обучение в лицейских классах по профильным направлениям.
- ✓ Сотрудничество ГБОУ Школа №109 с другими образовательными организациями: Медицинским университетом им. Н. Пирогова, Университетом дружбы народов, Физическим факультетом МГУ им. М.В. Ломоносова, Технологическим университетом, Медицинским училищем №1, Киноколледжем, РЭУ им. Г.В. Плеханова, Российским экономическим университетом.

# Особенности образовательной программы 5-х гимназических классов

- ✓ Синхронизированный курс изучения истории Древнего мира, литературы Древнего мира, мировой художественной культуры Древнего мира.
- ✓ Основной иностранный язык (английский, немецкий).
- ✓ Второй иностранный язык (английский, немецкий, французский).
- ✓ Изобразительное искусство (только в художественно-графической группе).

# Вступительные экзамены

- ✓ Сроки проведения вступительных экзаменов с 14 по 17 мая, 21 мая – ИЗО для учащихся школы №109.
  
- ✓ 14 мая – математика; 15 мая – русский язык; 16 мая – иностранный язык; 17 мая – ИЗО для учащихся других школ; 21 мая – ИЗО для учащихся 109 школы.
  
- ✓ Начало проведения экзаменов 14:30 в здании старшей школы по адресу: улица Академика Бакулева, дом 20.
  - Русский язык (диктант с продолжением).
  - Математика (8 заданий) 45 минут.
  - Иностранный язык (устно и письменно) 45 минут – письменная часть, 10 минут – устная часть.
  - Рисунок (только для поступающих в художественно-графическую группу).
  
- ✓ Для участия в экзаменах необходимо подать заявление секретарю школы. Готовцева Екатерина Витальевна, тел.: +7 (499) 737-48-58, E-mail: 109@edu.mos.ru

# Литература



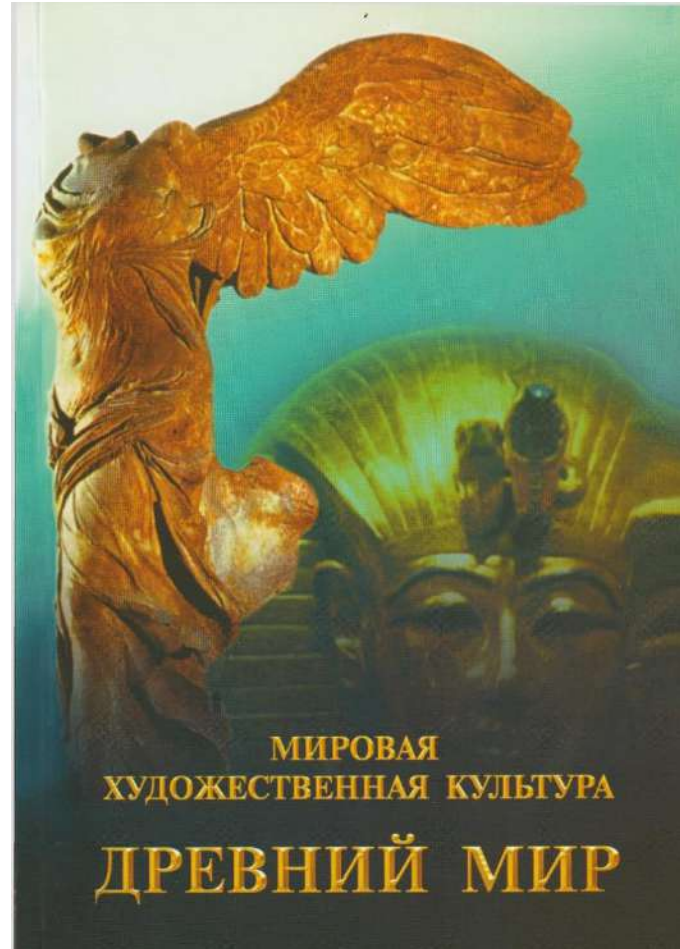
## Хрестоматия по литературе

## Древнего мира

5 класс      2022 - 2023

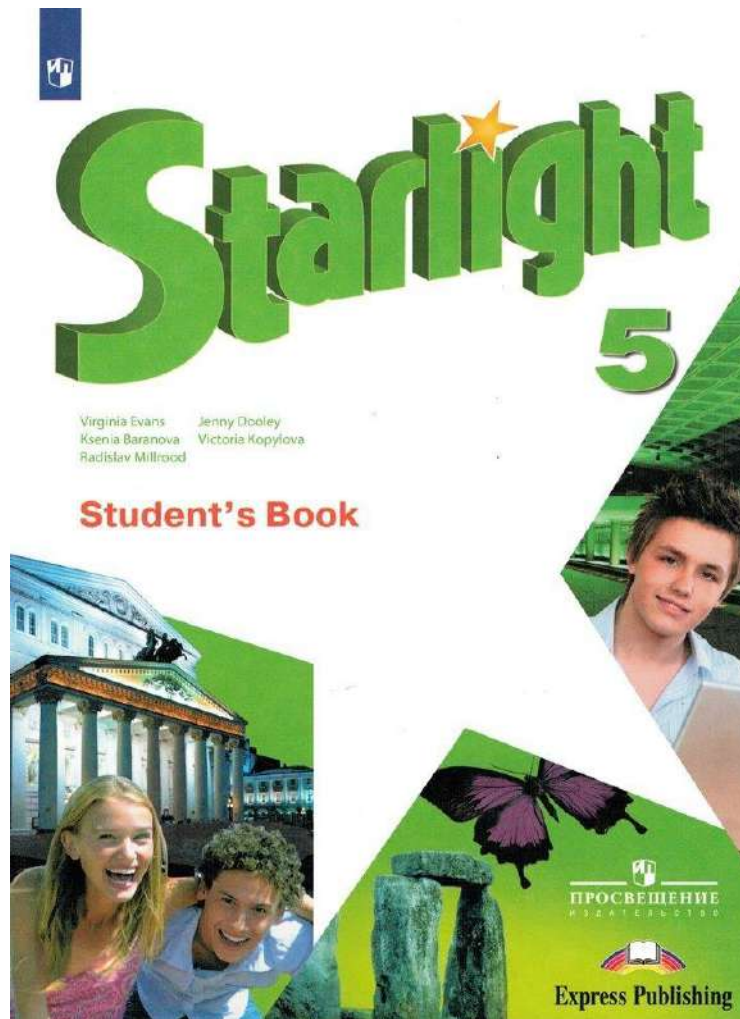


# Мировая художественная культура



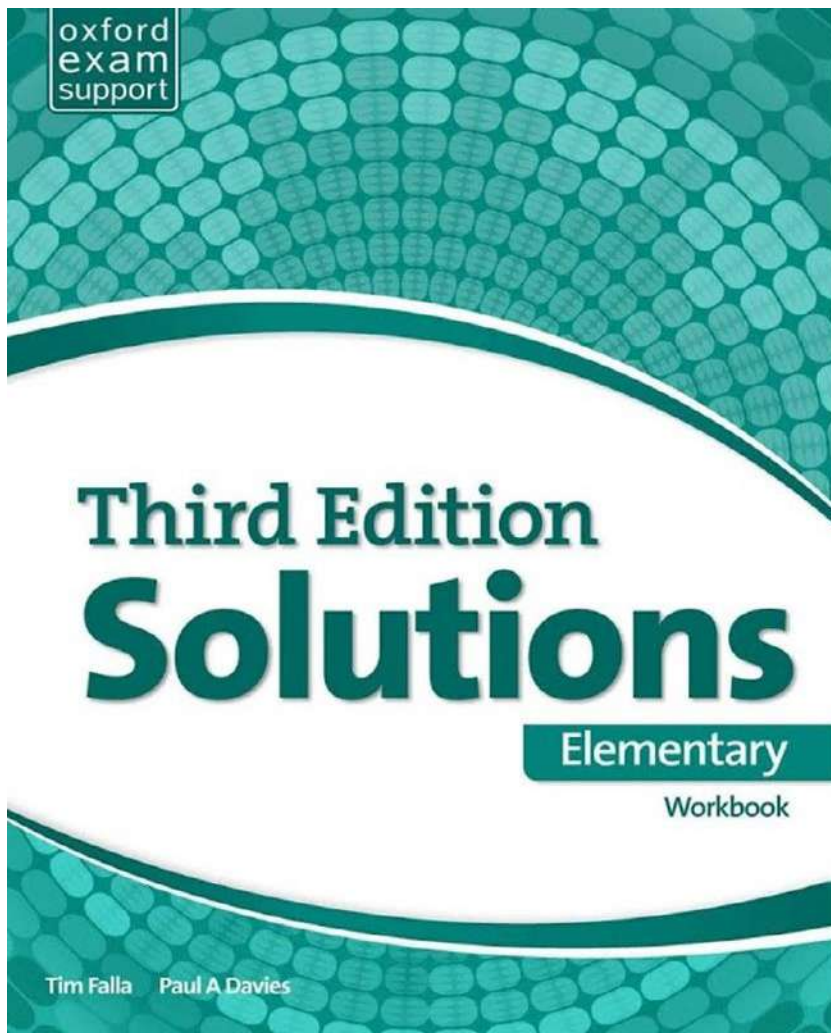
Учебное пособие

# Английский язык (основной)

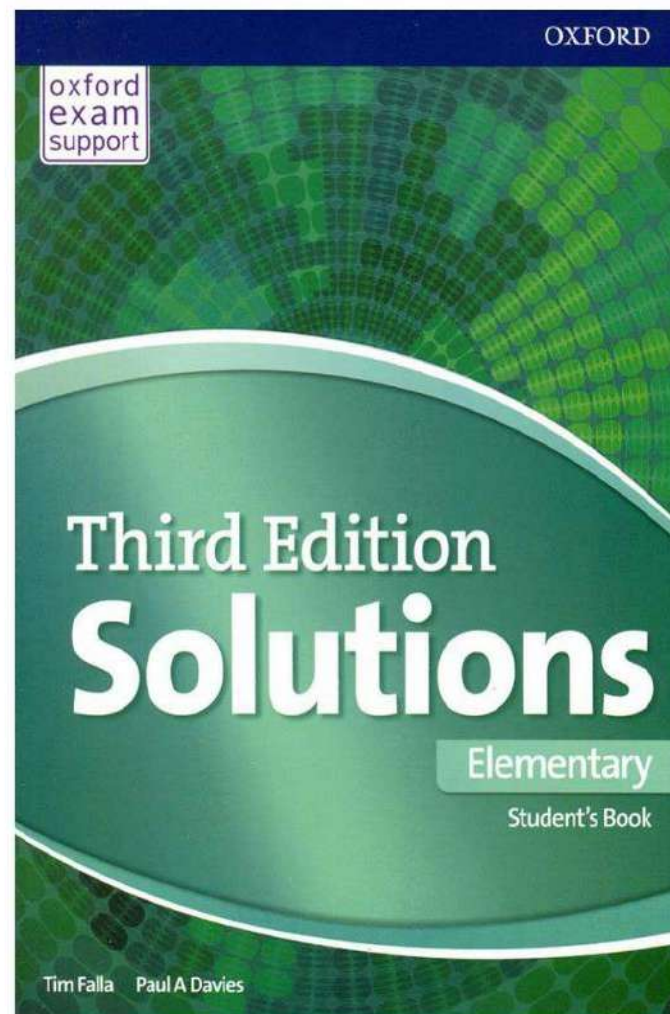


Учебник






Рабочая тетрадь



Учебник

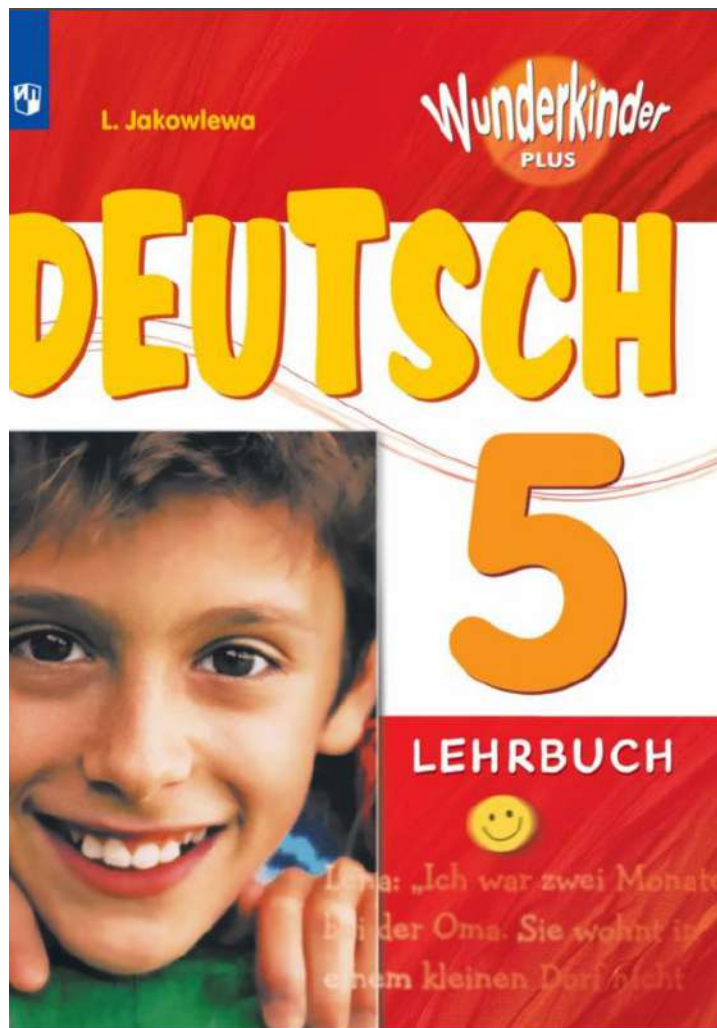


# Английский язык (второй)




Учебник

# Немецкий язык (основной)



Wunderkinder Plus 5  
издательство Просвещение



Mosaik IV  
издательство AST Пресс



# Немецкий язык (второй)



Horizonte 5



Издательства


Просвещение и Cornelsen



# *ФРАНЦУЗСКИЙ ЯЗЫК*

(ВТОРОЙ ИНОСТРАННЫЙ)





# Художественно – графическая группа



# Экзамен по изобразительному искусству

- **Живопись** (натюрморт акварелью или гуашью)

Продолжительность 2 часа


*Пример экзаменационных работ по живописи*





# С собой на экзамен принести:

1. Акварельную бумагу формата А4, 2 листа
2. Карандаш простой
3. Ластик
4. Краски акварельные или гуашь
5. Кисти беличьи для акварели или синтетику для гуаши
6. Баночку для воды
7. Палитру



*Битарова Милана. 8 класс*

## Демоверсия экзаменационной работы по математике

1. Расставьте порядок действий и выполните вычисления:

$$3596 - 37592 : 74 + 308 \cdot 17 =$$

2. Решите уравнение (проверку делать не надо):

$$4646 : (12 \cdot x - 38) = 23$$

3. Купили 9 упаковок красных шариков по 11 штук в каждой и несколько упаковок желтых шариков по 20 штук в каждой. Сколько всего купили упаковок с желтыми шариками, если всего купили 219 шариков?

4. Выразите:

1)  $40078 \text{ м} = \dots\dots\dots \text{ км} \dots\dots\dots \text{ м}$ . 2)  $45 \text{ дм}^2 = \dots\dots\dots \text{ см}^2$ .

3)  $124 \text{ мин} = \dots\dots\dots \text{ ч} \dots\dots\dots \text{ мин}$ . 4)  $250 \text{ т} = \dots\dots\dots \text{ ц} = \dots\dots\dots \text{ кг}$ .

5. Периметр квадрата 48 см, найдите площадь прямоугольника ширина, которого равна стороне квадрата, а длина на 10 см больше ширины.

6. В магазин завезли 144 кг овощей. Из них 98 кг составляли капуста, а остальное свекла и морковь. Причем моркови на 6 кг больше, чем свеклы. Сколько кг моркови завезли в магазин?

7. Из двух городов, расстояние между которыми 310 км, одновременно навстречу друг другу вышли два поезда и встретились через 2 часа. Скорость одного из них на 5 км/час больше скорости другого. Найдите скорость каждого поезда.

8. Мама дала Коле 100 рублей. На эти деньги он купил наибольшее количество порций мороженого по 17 рублей и принес сдачу несколькими пятирублевыми монетами. Определите количество пятирублевых монет.

## **Экзаменационная работа по русскому языку для поступающих в 5 гимназический класс (демоверсия).**

Как много удивительного встретишь во время летних походов!

Вот утром стелется над долиной туман. Но встанет солнце, деревья заколышутся, запоют птички. Радостью заполнится сердце. Ты уже спешишь в путь и наслаждаешься свежестью раннего утра.

Приветливо смотрят на тебя окрестные леса, золотистая рожь. Небольшая остановка на берегу извилистой речки. Вьется дымок, слышатся серьезные рассказы об увлекательных поездках.

Узкую тропинку пересекает колючий еж. На него яростно лает наш счастливый пес. Находим очаровательную поляну и разводим костер. Теперь можно искупаться. На поверхности вода теплая, а в глубине прохладная. Вечернее купание освежает. Чувствуешь себя готовым к новым открытиям.

### **Творческое задание.**

Наверное, каждый из вас хоть раз гулял летом в лесу. Опишите свою прогулку по летнему лесу. Включите в своё описание летнего леса однородные члены предложения и изобразительно-выразительные средства языка: сравнения, эпитеты.